

- Practique para el examen *HiSET*<sup>®</sup>
- Responda las preguntas desarrolladas por el creador del examen
- Descubra si está preparado para el verdadero examen complementario

# Estudios Sociales

Examen de práctica gratuito  
FPT – 7 de *HiSET*<sup>®</sup>

[hiset.org](http://hiset.org)

Publicado en 2017



---

Derechos de autor © 2022 PSI Services LLC. Todos los derechos reservados. PSI, el logotipo de PSI y HISET son marcas registradas de PSI Services LLC. Las preguntas de prueba copyright © 2001, 2003, 2007 por The University of Iowa. Todos los derechos reservados. Se usan bajo licencia de Houghton Mifflin Harcourt. THE IOWA TESTS® es una marca registrada de Houghton Mifflin Harcourt Publishing Company. Las preguntas de prueba de Iowa Testing Programs copyright © 2017 por The University of Iowa. Todos los derechos reservados.

# Estudios Sociales

## Instrucciones

Tiempo – 35 minutos

25 preguntas

Esta es una prueba de sus habilidades para analizar información de ciencias sociales. Lea cada pregunta y decida cuál de las cuatro alternativas es la que mejor responde la pregunta. Luego marque su respuesta en su hoja de respuestas. A veces varias preguntas se basan en el mismo material. Debe leer este material detenidamente y luego responder las preguntas.

Trabaje lo más rápido que pueda sin ser descuidado. No dedique mucho tiempo a alguna pregunta que le sea muy difícil de responder. Pase esa pregunta y vuelva a ella más tarde si tiene tiempo. Trate de responder cada pregunta aunque tenga que adivinar la respuesta.

Marque todas sus respuestas en la hoja de respuestas. Proporcione solo una respuesta para cada pregunta.

Si decide cambiar una de sus respuestas, asegúrese de borrar completamente su respuesta inicial.

Asegúrese de que el número de la pregunta que está respondiendo coincide con el número de la fila de opciones de respuesta que está marcando en la hoja de respuestas. La hoja de respuestas puede contener más filas de las que necesita.

Las preguntas 1 a 8 se refieren a la siguiente información.

La siguiente tabla muestra las ciudades más pobladas en EE. UU. del año 1800 al 2000 en orden de la ciudad más poblada a la décima más poblada.

	1800	1850	1900	1950	2000
1	Nueva York, NY	Nueva York, NY	Nueva York, NY	Nueva York, NY	Nueva York, NY
2	Filadelfia, PA	Baltimore, MD	Chicago, IL	Chicago, IL	Los Ángeles, CA
3	Baltimore, MD	Boston, MA	Filadelfia, PA	Filadelfia, PA	Chicago, IL
4	Boston, MA	Filadelfia, PA	San Luis, MO	Los Ángeles, CA	Houston, TX
5	Charleston, SC	Nueva Orleans, LA	Boston, MA	Detroit, MI	Filadelfia, PA
6	Northern Liberties, PA	Cincinnati, OH	Baltimore, MD	Baltimore, MD	Phoenix, AZ
7	Southwark, PA	Brooklyn, NY	Cleveland, OH	Cleveland, OH	San Diego, CA
8	Salem, MA	San Luis, MO	Buffalo, NY	San Luis, MO	Dallas, TX
9	Providence, RI	Spring Garden, PA	San Francisco, CA	Washington, D.C.	San Antonio, TX
10	Norfolk, VA	Albany, NY	Cincinnati, OH	Boston, MA	Detroit, MI

1

En 1850, ¿cuántas de las diez ciudades más pobladas se encontraban en los estados que formaron parte de las trece colonias originales?

- A. 5
- B. 6
- C. 7
- D. 8

2

¿En cuál de los siguientes periodos de tiempo fue más evidente el crecimiento de la población en el sur y en el oeste?

- A. 1800 – 1850
- B. 1850 – 1900
- C. 1900 – 1950
- D. 1950 – 2000

3

¿Cuál de las siguientes dos afirmaciones, si hay alguna, es respaldada por la información de la tabla?

- I. Había menos personas viviendo en el noreste en el 2000 que en 1800.
  - II. La lista de las diez ciudades más pobladas en el 2050 será la misma que la lista del 2000.
- A. I solamente
  - B. II solamente
  - C. Las dos afirmaciones
  - D. Ninguna de las dos afirmaciones

4

¿Cuál de los siguientes eventos sería la explicación más probable de que Detroit aparezca en la lista de ciudades más pobladas de EE. UU. en 1950?

- A. La expansión de comercio con Canadá
- B. La terminación del canal Erie
- C. La expansión de la industria del automóvil
- D. El fin de la severa sequía del medio oeste

5

¿Cuál de estos eventos históricos explica mejor por qué San Francisco formaba parte de la lista en 1900?

- A. El final de la Guerra Civil
- B. La terminación de las vías transcontinentales del ferrocarril
- C. El comienzo del servicio de correo Pony Express
- D. El desarrollo de automóviles de combustión interna

6

¿Qué conclusión se puede sacar usando la información de esta tabla?

- A. Texas era el estado con más población en el 2000.
- B. La población de la ciudad de Nueva York continuará aumentando.
- C. Del año 1800 al 2000, la mayoría de las diez ciudades más pobladas de EE. UU. han cambiado de estados del norte y el este a los estados del oeste y el sur.
- D. Del año 1800 al 2000, la mayoría de las diez ciudades más pobladas de EE. UU. han cambiado de estados del sur y el oeste a los estados del norte y el este.

7

¿Cuál región tiene el menor número de ciudades en esta tabla?

- A. Noroeste
- B. Noreste
- C. Suroeste
- D. Sureste

8

¿Cuál ciudad en esta tabla no es parte de ningún estado?

- A. La Ciudad de Nueva York
  - B. Washington, D.C.
  - C. San Luis
  - D. Detroit
-

Las preguntas 9 a 13 se refieren a la siguiente información.

★ ★ ★ ★ ★ ★ ★ ★

**VOTE POR LA EXPERIENCIA  
VOTE POR EL PROGRESO**

Vote por  
***Sylvia Flores***  
Candidata al Senado Estatal  
del Distrito 15

- ★ Agente inmobiliaria y activista  
cívica de 47 años de edad
- ★ Asistente legislativa del  
senador estatal Brown  
durante los últimos 4 años
- ★ Apoyada por
  - AFL-CIO
  - Organizaciones docentes
  - Junta de agentes inmobiliarios
- ★ Apoya
  - Finalización del sistema  
del metro
  - Más financiamiento para  
carreteras
  - Mejores salarios para  
los maestros

★ ★ ★ ★ ★ ★ ★ ★

9

¿Cuál de las siguientes declaraciones es apoyada más fuertemente por la información de este póster?

- A. Flores es miembro de un sindicato.
- B. Flores está sumamente interesada en los asuntos públicos.
- C. Flores apoya la reducción de los impuestos a la propiedad.
- D. Flores ha recibido el apoyo del senador Brown, próximo a retirarse.

10

La mayoría de las declaraciones que describen a Flores pueden clasificarse como

- A. hechos.
- B. opiniones.
- C. predicciones.
- D. juicios de valor.

11

¿Cuál de las siguientes actividades hubiera contribuido MENOS a que Flores fuera considerada una “activista cívica”?

- A. Su trabajo en una asociación de padres y maestros
- B. Su servicio en el concejo municipal
- C. Sus esfuerzos para recaudar dinero para remodelar la biblioteca de la ciudad
- D. Su papel como propietaria de una empresa inmobiliaria

12

¿Cuál de las siguientes acciones pudiera esperar más un votante si Flores llega a ser elegida?

- A. Probablemente apoyará leyes a favor del derecho a trabajar.
- B. Probablemente será nombrada para los mismos comités del Senado en los que participó el senador Brown.
- C. Probablemente apoyará mayores gastos estatales para las escuelas públicas.
- D. Probablemente se opondrá a un aumento en el impuesto estatal a la gasolina.

13

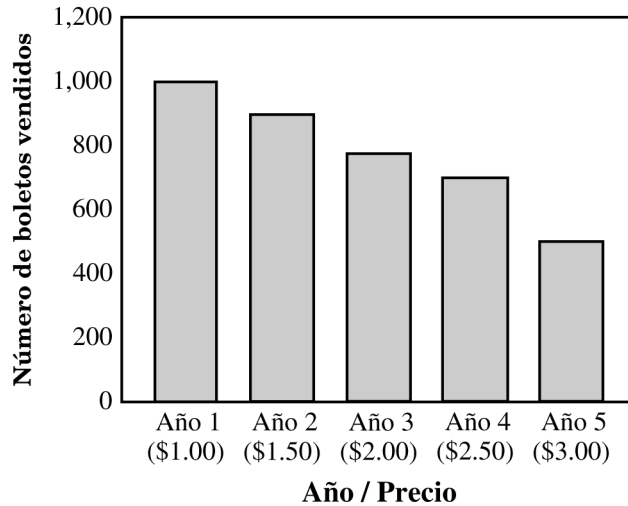
Aparentemente, Flores cree que su asociación con el senador Brown será considerada como

- A. un bochorno profesional.
  - B. una ventaja política.
  - C. una fuerte rivalidad.
  - D. un aspecto menor de su experiencia.
-

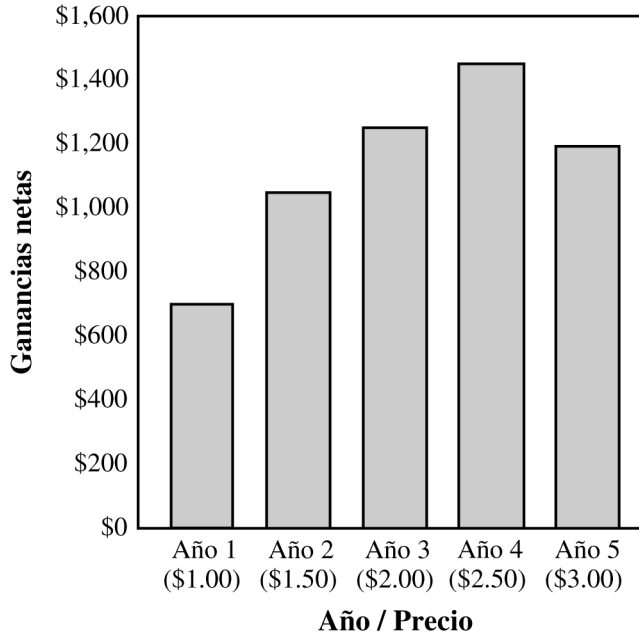
Las preguntas 14 a 16 se refieren a la siguiente información.

Los estudiantes de 10° grado de la Escuela Secundaria Douglas recolectan dinero a través de un proyecto de rifa anual. Las ganancias se utilizan para el mejoramiento de la escuela. Para decidir el precio de los boletos de la rifa este año, los estudiantes utilizaron las siguientes gráficas. Éstas proveen información sobre las ventas de los boletos y las ganancias netas del proyecto de rifa desde hace cinco años. Los gastos de la rifa han sido relativamente constantes durante estos años.

**Gráfica I: Ventas anuales de los boletos**



**Gráfica II: Ganancias netas**





14

La gráfica I ilustra el principio de que cuando un producto no es una necesidad,

- A. las ganancias equivalen al exceso del valor del producto sobre los costos de la producción.
- B. el precio es establecido cuando la demanda excede la oferta.
- C. entre más alto sea el precio del producto, la demanda será más baja.
- D. entre más alto sea el precio del producto, la oferta será más baja.

15

¿Cuál de las siguientes generalizaciones es apoyada por las gráficas?

- A. Las ganancias son más altas cuando los precios son bajos.
- B. Las ganancias son influenciadas por la relación entre el precio y la demanda.
- C. Las ganancias aumentan cuando el precio de un producto aumenta.
- D. La demanda de un producto no puede predecirse basándose en el precio.


16

Basándose en la información de las gráficas, ¿cuál sería el precio de los boletos que les podría dar más ganancias a los estudiantes?

- A. \$1.50
  - B. \$2.00
  - C. \$2.50
  - D. \$3.00
-

Las preguntas 17 y 18 se refieren a la siguiente información.

El siguiente póster se usó en la Primera Guerra Mundial.



“¡La Marina te Necesita!” Cortesía de Library of Congress # LC-USZC4-8890

17

En el póster, lo más probable es que el hombre con el periódico represente

- A. reporteros de un periódico.
- B. ex veteranos.
- C. reclutas potenciales.
- D. miembros del Congreso.

18

Lo más probable es que este póster fue diseñado para apelar a todos los siguientes EXCEPTO

- A. el deseo de una persona de ser aventurero.
- B. el sentimiento de patriotismo de una persona.
- C. el sentido de responsabilidad de una persona.
- D. la necesidad de una persona de tener seguridad financiera.

19

¿Cuál afirmación acerca de un candidato para presidente sería más difícil de comprobar o refutar?

- A. El candidato A visitó todos los cincuenta estados el año pasado.
- B. El candidato A tiene una posición más razonable sobre los impuestos que el candidato B.
- C. El candidato B votó a favor de una propuesta de ley que aumentaría los impuestos a los ingresos.
- D. El candidato B ha recibido más contribuciones para su campaña que el candidato A.

20

¿En cuál de las siguientes ubicaciones se esperaría que hubiera más horas de luz solar el 15 de enero?

- A. 50° N 20° E
- B. 10° N 100° E
- C. 10° S 100° O
- D. 50° S 20° O

21

¿Cuál de las siguientes opciones es el mejor ejemplo de una inversión en recursos humanos?

- A. Una empresa proporciona programas educativos para sus empleados.
- B. Una empresa ofrece descuentos especiales a algunos clientes.
- C. Una persona compra acciones en una empresa recién creada.
- D. Una empresa adquiere una máquina que puede hacer el trabajo de varias personas.

22

¿Cuál de las siguientes personas sería MENOS probable que apoye el plan de la ciudad para volver a desarrollar el centro de la ciudad?

- A. Una persona que está financiando un edificio nuevo de oficinas en el área del centro de la ciudad
- B. Un miembro de la mesa directiva de la ciudad que ha recomendado este proyecto
- C. Un residente de muchos años en un edificio de apartamentos que se planea derrumbar
- D. Un socio de la firma de arquitectos que llevaría a cabo este plan

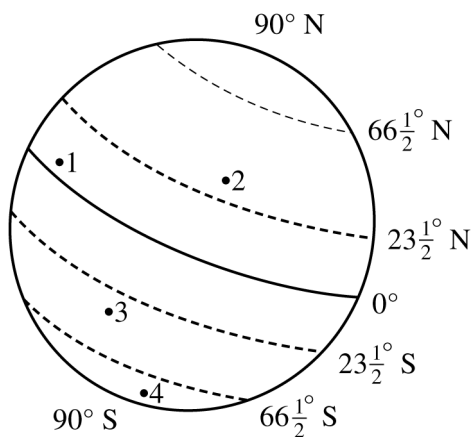
23

¿Cuál de las siguientes acciones probablemente no estaría protegida por el derecho constitucional a la libertad de expresión y de prensa?

- A. Un columnista de periódico que falsamente acusa a un funcionario público de robar fondos
- B. Un senador que cuestiona las cualificaciones de una persona designada por el presidente
- C. Un comentarista de radio que presenta dudas sobre la capacidad de un candidato político
- D. Un editorialista que critica las políticas de un jefe de policía

24

Observe el siguiente diagrama.



¿Cuál punto en el diagrama de la Tierra está en la zona tropical?

- A. 1
- B. 2
- C. 3
- D. 4

25

¿Cuál de las siguientes afirmaciones sería más difícil de comprobar o refutar?

- A. Los Estados Unidos deberían cobrar impuestos de importación por los bienes de otros países que no permiten acceso a sus mercados.
- B. Los Estados Unidos no cobran ningún impuesto de importación por los bienes europeos.
- C. Los impuestos de importación sobre los bienes de Latinoamérica son más bajos hoy que hace cinco años.
- D. Los impuestos de importación sobre la maquinaria agrícola son más altos que los de los automóviles.



**NO HAY PREGUNTAS DEL EXAMEN EN ESTA PÁGINA**

## HiSET Clave de respuestas y razonamientos

Número de secuencia	Respuesta correcta	Categoría de contenido	Nivel de dificultad
1	C	Historia	Medio
Razonamiento			
<p><b>La opción C es correcta</b> porque # 5 Nueva Orleans, # 6 Cincinnati y # 8 San Luis se encuentran en regiones que no formaban parte de las trece colonias originales.</p>			

Número de secuencia	Respuesta correcta	Categoría de contenido	Nivel de dificultad
2	D	Historia	Medio
Razonamiento			
<p><b>La opción D es correcta</b> porque para el año 2000 habían seis ciudades entre las diez principales en la parte sur u occidental de los Estados Unidos, en comparación con 1950, donde sólo había una.</p>			

Número de secuencia	Respuesta correcta	Categoría de contenido	Nivel de dificultad
3	D	Historia	Medio
Razonamiento			
<p><b>La opción D es correcta</b> porque la tabla no da números de población para toda la región del noreste, y no se puede predecir cuáles serán las diez ciudades principales en 2050 basado en esta tabla.</p>			

Número de secuencia	Respuesta correcta	Categoría de contenido	Nivel de dificultad
4	C	Historia	Medio
Razonamiento			
<p><b>La opción C es correcta</b> porque Detroit fue la ubicación de un gran número de plantas de fabricación de automóviles durante este tiempo. Esto creó muchos empleos y ayudó a aumentar la población de la región.</p>			

Número de secuencia	Respuesta correcta	Categoría de contenido	Nivel de dificultad
5	B	Historia	Medio
Razonamiento			
<p><b>La opción B es correcta</b> porque la terminación del ferrocarril transcontinental hizo que los viajes a la parte occidental de los Estados Unidos fueran mucho más fáciles. Conectó las áreas urbanas en el este de los Estados Unidos con las áreas menos pobladas en el oeste de los Estados Unidos.</p>			

Número de secuencia	Respuesta correcta	Categoría de contenido	Nivel de dificultad
6	C	Historia	Medio
Razonamiento			
<p><b>La opción C es correcta</b> porque en el lapso de 200 años que se muestra en esta tabla, las poblaciones han pasado de las regiones norte y este de los Estados Unidos a otras partes del país. Las regiones occidental y meridional han experimentado el mayor crecimiento durante este período porque las regiones ofrecieron más oportunidades de empleo, propiedad de la tierra, etc.</p>			

Número de secuencia	Respuesta correcta	Categoría de contenido	Nivel de dificultad
7	A	Geografía	Medio
Razonamiento			
<p><b>La opción A es correcta</b> porque no hay ciudades de la región noroeste listadas en esta tabla.</p>			

Número de secuencia	Respuesta correcta	Categoría de contenido	Nivel de dificultad
8	B	Geografía	Fácil
Razonamiento			
<p><b>La opción B es correcta</b> porque el Distrito de Columbia es un distrito especial para la capital y no forma parte de ninguna estado. En 1790 el gobierno de los Estados Unidos aprobó la Ley de Residencia, creando una región separada a lo largo del Río Potomac que contendría las tres ramas del gobierno (ejecutiva, legislativa y judicial). Los estados no pudieron ponerse de acuerdo sobre un lugar para la capital, por eso esta región se hizo independiente.</p>			

Número de secuencia	Respuesta correcta	Categoría de contenido	Nivel de dificultad
9	B	Educación Cívica/Gobierno	Medio
Razonamiento			
<p><b>La opción B es correcta</b> porque el póster indica que la candidata es una activista cívica y está respaldada por la AFL-CIO, organizaciones docentes y agentes de inmobiliarios. El póster también indica que la candidata apoya mejoras en el transporte y aumento de salarios para los docentes. Estas acciones y organizaciones están todas relacionadas con asuntos públicos.</p>			

Número de secuencia	Respuesta correcta	Categoría de contenido	Nivel de dificultad
10	A	Educación Cívica/Gobierno	Medio
Razonamiento			
<p><b>La opción A es correcta</b> porque las declaraciones contenidas en el póster son hechos reales sobre la candidata, sus afiliaciones y la plataforma de campaña.</p>			

Número de secuencia	Respuesta correcta	Categoría de contenido	Nivel de dificultad
11	D	Educación Cívica/Gobierno	Fácil
Razonamiento			
<p><b>La opción D es correcta</b> porque tener un negocio sólo beneficia al propietario, y el negocio sólo ofrece servicios a personas interesadas en comprar o vender casas. El negocio no beneficia al público en general.</p>			

Número de secuencia	Respuesta correcta	Categoría de contenido	Nivel de dificultad
12	C	Educación Cívica/Gobierno	Fácil
Razonamiento			
<p><b>La opción C es correcta</b> porque ella está respaldada por organizaciones docentes, y parte de su plataforma de campaña es que los docentes reciban un aumento en sus salarios.</p>			

Número de secuencia	Respuesta correcta	Categoría de contenido	Nivel de dificultad
13	B	Educación Cívica/Gobierno	Medio
Razonamiento			
<p><b>La opción B es correcta</b> porque trabajar como asistente legislativo demuestra su experiencia política.</p>			

Número de secuencia	Respuesta correcta	Categoría de contenido	Nivel de dificultad
14	C	Economía	Medio
Razonamiento			
<p><b>La opción C es correcta</b> porque los consumidores ven las no-necesidades en términos de precio y asequibilidad. Si los productos tienen un precio razonable, entonces la demanda suele equilibrar la oferta. Sin embargo, si el precio excede la asequibilidad, entonces habrá un excedente debido a la disminución de la demanda.</p>			

Número de secuencia	Respuesta correcta	Categoría de contenido	Nivel de dificultad
15	B	Economía	Medio
Razonamiento			
<p><b>La opción B es correcta</b> porque el precio de un producto determinará la cantidad de beneficios generados en función de la demanda. Un producto en el punto de precio adecuado creará una demanda saludable y, por lo tanto, generará la cantidad máxima de ingresos.</p>			



Número de secuencia	Respuesta correcta	Categoría de contenido	Nivel de dificultad
16	C	Economía	Medio
Razonamiento			
<b>La opción C es correcta</b> porque las ganancias eran las más altas a este punto de precios.			

Número de secuencia	Respuesta correcta	Categoría de contenido	Nivel de dificultad
17	C	Historia	Medio
Razonamiento			
<b>La opción C es correcta</b> porque representa a la persona que está siendo persuadida a unirse a la marina y hacer historia en lugar de leer sobre ella en el periódico.			

Número de secuencia	Respuesta correcta	Categoría de contenido	Nivel de dificultad
18	D	Historia	Fácil
Razonamiento			
<b>La opción D es correcta</b> porque el póster no menciona cuánto la marina está dispuesta a pagar a los reclutas.			

Número de secuencia	Respuesta correcta	Categoría de contenido	Nivel de dificultad
19	B	Educación Cívica/Gobierno	Medio
Razonamiento			
<b>La opción B es correcta</b> porque es una opinión. Lo razonable de la postura de un candidato sobre los impuestos es una cuestión de opinión y puede variar de un ciudadano a otro, lo que haría difícil probarlo o refutarlo.			

Número de secuencia	Respuesta correcta	Categoría de contenido	Nivel de dificultad
20	D	Geografía	Medio
Razonamiento			
<b>La opción D es correcta</b> porque las estaciones se invierten en los hemisferios norte y sur. Enero en el hemisferio sur representaría la temporada de verano. También, puesto que la opción D es la localización más lejana del sur, recibiría la mayoría de la luz del sol.			

Número de secuencia	Respuesta correcta	Categoría de contenido	Nivel de dificultad
21	A	Economía	Medio
Razonamiento			
<b>La opción A es correcta</b> porque trata con el elemento humano de una fuerza de trabajo de una organización, negocio, industria o economía.			

Número de secuencia	Respuesta correcta	Categoría de contenido	Nivel de dificultad
22	C	Economía	Medio
Razonamiento			
<b>La opción C es correcta</b> porque una persona en esta situación perderá la residencia que ha tenido por mucho tiempo, mientras que los demás se beneficiarían del plan propuesto.			

Número de secuencia	Respuesta correcta	Categoría de contenido	Nivel de dificultad
23	A	Educación Cívica/Gobierno	Medio
Razonamiento			
<b>La opción A es correcta</b> porque a pesar de que la Primera Enmienda protege la libertad de expresión y la prensa, no protege la libre expresión o la prensa que conduce a actividades ilegales, violencia inminente, obscenidad, difamación o calumnia.			

Número de secuencia	Respuesta correcta	Categoría de contenido	Nivel de dificultad
24	A	Geografía	Medio
Razonamiento			
<b>La opción A es correcta</b> porque las áreas más cercanas al Ecuador tienen climas tropicales.			

Número de secuencia	Respuesta correcta	Categoría de contenido	Nivel de dificultad
25	A	Economía	Medio
Razonamiento			
<b>La opción A es correcta</b> porque está discutiendo las acciones que ocurrirían en el futuro. Esto hace que sea difícil de probar o refutar.			



